

ЮНЫЕ ТАЛАНТЫ. ГЕОГРАФИЯ ТЕСТОВЫЕ ЗАДАНИЯ

ВОПРОСЫ ПО 1 БАЛЛУ

1. Выберите субъект Российской Федерации, местное среднее солнечное время которого на большей части территории опережает поясное время более, чем на 30 минут.

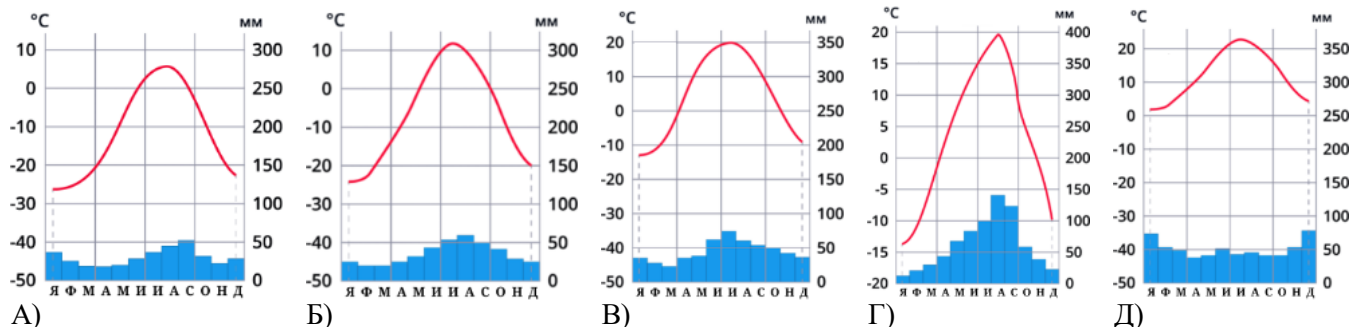
- А) Томская область Б) Камчатский край В) Московская область
Г) Республика Коми Д) Псковская область

2. Выберите регионы России, в которых представлены такие формы рельефа как друмлины.



- А) Псковская область Б) Новгородская область В) Приморский край
Г) Пермский край Д) Томская область

3. Выберите климатограммы центров, расположенных в областях умеренного климатического пояса России.



4. Выберите климатический пояс, в котором располагается самая северная материковая точка России.

- А) субтропический Б) арктический В) умеренный Г) субарктический Д) тропический

5. Выберите народ, большинство представителей которого говорят на языке тюркской группы алтайской языковой семьи и исповедуют буддизм.



А) калмыки



Б) тувинцы



В) осетины



Г) аварцы



Д) буряты

6. Выберите отрасли, которые относятся к первичному сектору экономики.

А) туризм

Б) сельское хозяйство

В) рыболовство

Г) цветная металлургия

Д) научные исследования

7. Выберите субъекты Российской Федерации, в которых добывается сырьё для производства минеральных удобрений.



А) Мурманская область

Б) Самарская область

В) Пермский край

Г) Ямало-Ненецкий АО

Д) Кировская область

8. Выберите ГЭС, которая выполняет не только функцию производства электроэнергии, но и защиты от наводнений, вызванных летними дождевыми паводками.



А) Саяно-Шушенская



Б) Богучанская



В) Усть-Илимская



Г) Усть-Хантайская



Д) Зейская

9. Выберите государства, которые входят в десятку стран-лидеров по общему объёму водных ресурсов.

А) Эфиопия

Б) Бразилия

В) Колумбия

Г) Испания

Д) Канада

10. Выберите порты Китая, которые расположены на побережье Жёлтого моря.



А) Нанкин



Б) Таншань



В) Шэньчжэнь



Г) Гонконг



Д) Циндао

11. Выберите территории, эмблемы которых НЕ входят в комбинацию флага Великобритании, известного как Union Jack.

А) Англия

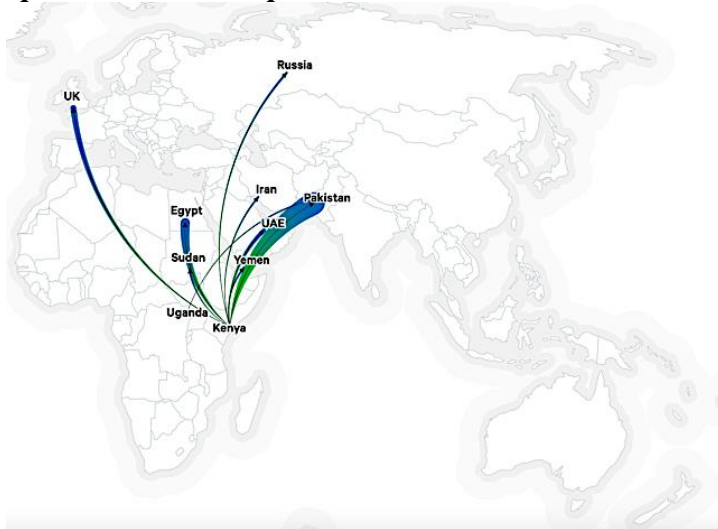
Б) Уэльс

В) Шотландия

Г) Северная Ирландия

Д) Остров Мэн

12. Выберите продукцию сельского хозяйства Африки к югу от Сахары, экспорт которой представлен на картосхеме.



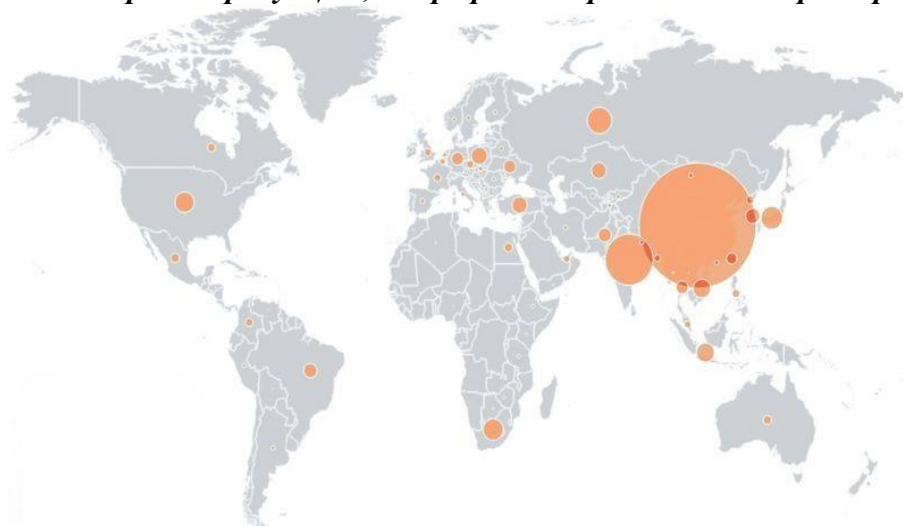
- А) кофе Б) мандарины В) сахарный тростник Г) соя Д) чай

13. Выберите город России, в котором проходил XVI саммит БРИКС в 2024 г.



- А) Москва Б) Санкт-Петербург В) Краснодар Г) Казань Д) Владивосток

14. Выберите продукцию, география потребления которой представлена на карте.



- А) уголь Б) природный газ В) нефть Г) электроэнергия Д) древесина

15. Выберите страну, для которой характерны наиболее низкие показатели продовольственной безопасности.

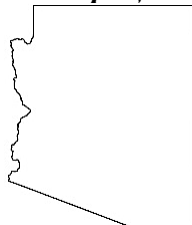
- А) Демократическая Республика Конго Б) Республика Корея В) Таджикистан
Г) Египет Д) Финляндия

ВОПРОСЫ ПО 2 БАЛЛА

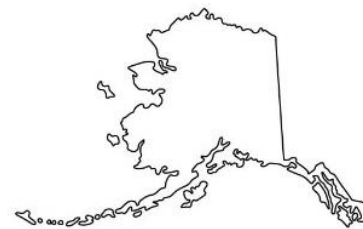
16. Расставьте штаты США в порядке посещения их Санта Клаусом, начиная с самого раннего. Штаты обозначены своими официальными прозвищами.



А) Штат десяти тысяч озёр



Б) Штат Большого каньона



В) Земля полуночного солнца



Г) Золотой штат



Д) Имперский штат

17. Расставьте страны-соседи России, флаги которых представлены на рисунках, в порядке убывания численности населения (по состоянию на 1 января 2024 г.).



А)



Б)



В)



Г)




Д)

18. Установите соответствия: региональная площадка проведения Многопредметной олимпиады «Юные таланты» – самая высокая точка этого субъекта Российской Федерации.

- А) Краснодарский край Б) Ярославская область В) Пермский край
 Г) Тюменская область Д) Челябинская область



1) хр. Тулымский камень (1496 м)



2) г. Цахвоа (3346 м)



3) г. Народная (1895 м)



4) г. Большой Нургуш (1406 м)



5) Тархов холм (294 м)

19. Расставьте перечисленные ниже типы почв в порядке возрастания доли площади обрабатываемых (пахотных) земель.



А) подзолистые



Б) дерново-подзолистые



В) тундрово-глеевые



Г) чернозёмы



Д) серые лесные

20. Расставьте субъекты Российской Федерации в порядке убывания количества моногородов.

- А) Свердловская область Б) Республика Удмуртия В) Челябинская область
 Г) Новосибирская область Д) Забайкальский край

21. Установите соответствия: фотография производства – отрасль машиностроения, которая на ней отражена.



А)



Б)



В)



Г)



Д)

- 1) двигателестроение 2) судостроение 3) сельскохозяйственное машиностроение
4) автомобилестроение 5) космическая промышленность

22. Установите соответствия: морской порт России – бассейн, к которому он относится.

- А) Сабетга Б) Приморск В) Де-Кастри Г) Тамань Д) Оля

- 1) Каспийский 2) Балтийский 3) Арктический 4) Дальневосточный 5) Азово-Черноморский

23. Установите соответствия: достопримечательность – субъект Российской Федерации, в котором она расположена.



А) Великий Устюг – родина Деда Мороза



Б) мемориал «Защитникам Советского Заполярья в годы Великой Отечественной войны» («Алёша»)



В) Валаамский монастырь



Г) гора Манарага



Д) Соловецкий монастырь

- 1) Вологодская область 2) Республика Карелия 3) Архангельская область
4) Республика Коми 5) Мурманская область

24. Установите соответствия: государство – название одной из его административно-территориальных единиц высшего порядка.

- А) Финляндия Б) Норвегия В) Швеция Г) Дания Д) Исландия

- 1) Трэнделаг 2) Зеландия 3) Лапландия 4) Хёвюдборгарсвайдид 5) Кальмар

А-3; Б-1; В-5; Г-2; Д-4

25. Установите соответствия: город в Австралии – год его основания.



- | | | | | |
|-------------|-----------|-------------|-----------|-----------|
| А) Канберра | Б) Сидней | В) Аделаида | Г) Дарвин | Д) Хобарт |
| 1) 1788 | 2) 1803 | 3) 1836 | 4) 1869 | 5) 1913 |

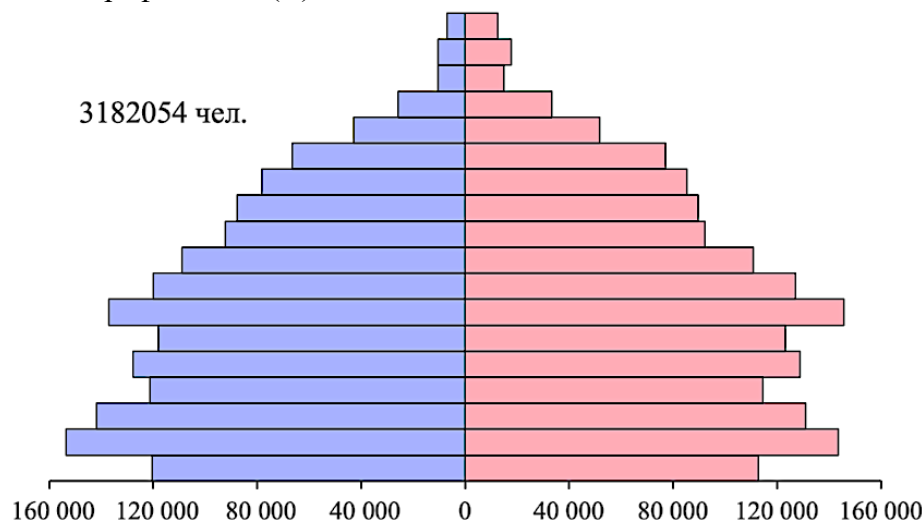
ВОПРОСЫ ПО 3 БАЛЛА

26. Напишите фамилии исследователей, о которых идёт речь в следующем тексте.

Изучение и освоение Арктики в XX–XXI вв. занимают важную роль в географических исследованиях нашей страны. В период Российской империи, в 1913 г., экспедицией под руководством (А) был открыт архипелаг Северная Земля. В советский период, в 1937–1938 гг., исследователь (Б) возглавлял первую в мире дрейфующую станцию «Северный полюс». В современной России, в 2007 г., океанолог и исследователь (В) в составе подводной экспедиции доказал, что подводный хребет Ломоносова является продолжением Сибирской континентальной платформы.

27. Заполните пропуски в следующем тексте.

На рисунке представлена поло-возрастная пирамида одной из республик Российской Федерации – (А), построенная по данным Всероссийской переписи населения 2020 г. Доля лиц от 0 до 14 лет здесь составляет 25,24%, таким образом число людей, находящихся в возрастах до репродукции составляет (Б) человек. В регионе сложился тип воспроизводства, образное название которого – «демографическая (В)».



28. Напишите почётные звания городов, пропущенные в тексте.

На территории Поволжского экономического района находится лишь один (А) – это Волгоград. Также в этом районе лишь один (Б) – Калач-на-Дону. Однако, в Поволжье сразу семь (В) – Казань, Самара, Ульяновск, Саратов, Астрахань, Пенза, Сызрань.

29. Заполните пропуски в следующем тексте.

Несмотря на огромные объёмы добычи (А) в мире, эта горная порода экспортируется в относительно небольшом объёме. Одним из крупнейших экспортёров является Италия, где на всемирно известном месторождении в (Б) работает около 13 тыс. чел. На месте добычи в прошлом этой горной породы был открыт уникальный для России горный парк (В), расположенный в 300 км к северу от Санкт-Петербурга.

**30. Заполните пропуски в следующем тексте.**

Столица страны (А) расположена на второй по длине реки этой части света (Б). На западе к границам страны подступают отроги самого высокого и протяжённого горного хребта среди систем, целиком лежащих в части света (Б). Восточная часть страны в целом ниже, чем западная. Прародиной титульного народа считаются степные области к востоку от Урала. В отличие от своих ближайших языковых родственников – хантов и (В), народ данной страны ушёл далеко на запад.